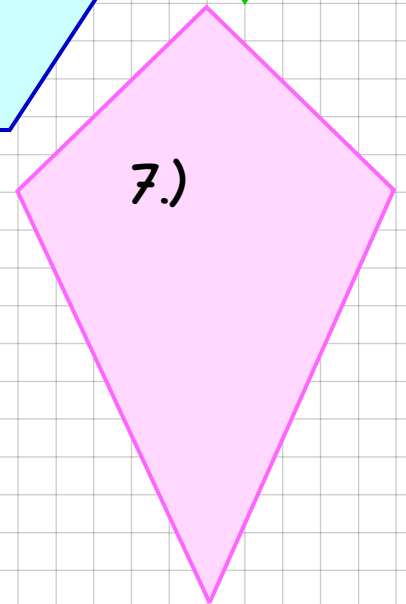
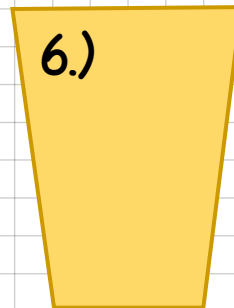
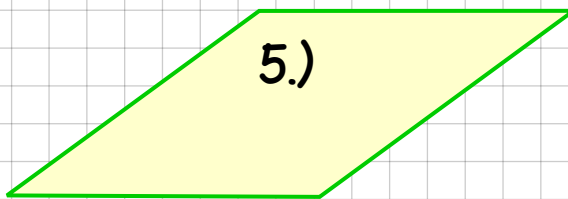

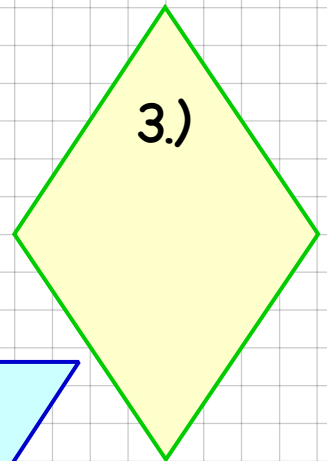






Hier sind acht Vierecke gezeichnet. Zu jedem ist der Name gefragt und die Formeln für Umfang und Fläche. Dazu sind dann Umfang und Fläche auszurechnen. Diesmal ist Kopfrechnen gefragt. Entnimm die für die Berechnung jeweils nötigen Werte aus der Zeichnung und trage die Ergebnisse in die Tabelle unten mit ein!



Nr.	Name	Formel Umfang	Formel Fläche	U =	A =
1					
2					
3					
4					
5					
6					
7					
8					